

Вопрос 1


В каком случае водитель совершит вынужденную остановку?

1. Остановившись непосредственно перед пешеходным переходом, чтобы уступить дорогу пешеходу.
2. Остановившись на проезжей части из-за технической неисправности транспортного средства.
3. В обоих перечисленных случаях.

Вопрос 2

Разрешен ли вам съезд на дорогу с грунтовым покрытием?

1. Разрешен.
2. Разрешен только при технической неисправности транспортного средства.
3. Запрещен.

**Вопрос 3**

Можно ли вам остановиться в указанном месте для посадки пассажира?

1. Можно.
2. Можно, если вы управляете такси.
3. Нельзя.

**Вопрос 4**


Какие из указанных знаков запрещают движение водителям мопедов?

1. Только А.
2. Только Б.
3. В и Г.
4. Все.

**А****Б****В****Г****Вопрос 5**

Вы намерены повернуть налево. Где следует остановиться, чтобы уступить дорогу легковому автомобилю?

1. Перед знаком.
2. Перед перекрестком у линии разметки.
3. На перекрестке перед прерывистой линией разметки.
4. В любом месте по усмотрению водителя.



Вопрос 6

Что означает мигание зеленого сигнала светофора?

1. Предупреждает о неисправности светофора.
2. Разрешает движение и информирует о том, что вскоре будет включен запрещающий сигнал.
3. Запрещает дальнейшее движение.

Вопрос 7

Водитель обязан подавать сигналы световыми указателями поворота (рукой):

1. Перед началом движения или перестроением.
2. Перед поворотом или разворотом.
3. Перед остановкой.
4. Во всех перечисленных случаях.



Вопрос 8

Как вам следует поступить при повороте направо?

1. Перестроиться на правую полосу, затем осуществить поворот.
2. Продолжить движение по второй полосе до перекрестка, затем повернуть.
3. Возможны оба варианта действий.



Вопрос 9

По какой траектории вам разрешено выполнить разворот?

1. Только по А.
2. Только по Б.
3. По любой из указанных.



Вопрос 10

С какой скоростью вы можете продолжить движение вне населенного пункта по левой полосе на легковом автомобиле?

1. Не более 50 км/ч.
2. Не менее 50 и не более 70 км/ч.
3. Не менее 50 и не более 90 км/ч.

Вопрос 11


Можно ли водителю легкового автомобиля выполнить опережение грузовых автомобилей вне населенного пункта по такой траектории?

1. Можно.
2. Можно, если скорость грузовых автомобилей менее 30 км/ч.
3. Нельзя.

**Вопрос 12**

В каком случае водителю разрешается поставить автомобиль на стоянку в указанном месте?

1. Только если расстояние до сплошной линии разметки — не менее 3 м.
2. Только если расстояние до края пересекаемой проезжей части — не менее 5 м.
3. При соблюдении обоих перечисленных условий.

**Вопрос 13**


При повороте направо вы должны уступить дорогу:

1. Только велосипедисту.
2. Только пешеходам.
3. Пешеходам и велосипедисту.
4. Никому.

**Вопрос 14**

Вы намерены проехать перекресток в прямом направлении. Кому следует уступить дорогу?


1. Обоим трамваям.
2. Только трамваю А.
3. Только трамваю Б.
4. Никому.

**Вопрос 15**

Кому вы обязаны уступить дорогу при повороте налево?

1. Только автобусу.
2. Только легковому автомобилю.
3. Никому.





Вопрос 16

С какой максимальной скоростью можно продолжить движение за знаком?

1. 60 км/ч.
2. 50 км/ч.
3. 30 км/ч.
4. 20 км/ч.

Вопрос 17

Для перевозки людей на мотоцикле водитель должен иметь водительское удостоверение на право управления транспортными средствами:

1. Категории «А» или подкатегории «А1».
2. Любой категории или подкатегории в течение 2 и более лет.
3. Только категории «А» или подкатегории «А1» в течение 2 и более лет.

Вопрос 18

При какой неисправности разрешается эксплуатация транспортного средства?

1. Не работают пробки топливных баков.
2. Не работает механизм регулировки положения сиденья водителя.
3. Не работают устройства обогрева и обдува стекол.
4. Не работает стеклоподъемник.

Вопрос 19

В случае, когда правые колеса автомобиля наезжают на неукрепленную влажную обочину, рекомендуется:

1. Затормозить и полностью остановиться.
2. Затормозить и плавно направить автомобиль на проезжую часть.
3. Не прибегая к торможению, плавно направить автомобиль на проезжую часть.

Вопрос 20

Что понимается под временем реакции водителя?

1. Время с момента обнаружения водителем опасности до полной остановки транспортного средства.
2. Время с момента обнаружения водителем опасности до начала принятия мер по ее избежанию.
3. Время, необходимое для переноса ноги с педали управления подачей топлива на педаль тормоза.

Вопрос 1

Под вынужденной остановкой подразумевается прекращение движения транспортного средства из-за его технической неисправности, опасности, создаваемой перевозимым грузом, внезапным ухудшением состояния водителя (или пассажира), а также появлением препятствия на дороге. Остановка, связанная с необходимостью выполнения требования уступить дорогу, не рассматривается как вынужденная (п. 1.2 ПДД). Правильный ответ — 2.

Вопрос 2

Знаки 1.11.2 «Опасный поворот» и 1.34.2 «Направление поворота» указывают направление движения на закруглениях дороги малого радиуса с ограниченной видимостью, или, как их называют, «закрытых» поворотах. Эти знаки не ограничивают возможность съезда с дороги, в данном случае — на прилегающую справа грунтовую дорогу. Правильный ответ — 1.

Вопрос 3

Знак 3.28 «Стоянка запрещена» остановку не запрещает, поэтому вы можете остановиться в указанном месте. Правильный ответ — 1.

Вопрос 4

Все указанные знаки запрещают движение водителям мопедов. Знак 5.14 (Б) «Полоса для маршрутных транспортных средств» используется для обозначения полосы, предназначенной для движения только маршрутных транспортных средств, велосипедистов и транспортных средств, используемых в качестве легкового такси. Знаки 4.4.1 (А) «Велосипедная дорожка», 4.5.2 «Пешеходная и велосипедная дорожка с совмещенным движением» (В) и 4.5.4 «Пешеходная и велосипедная дорожка с разделением движения» (Г) движение мопедов также не предусматривают. Правильный ответ — 4.

Вопрос 5

Разметка 1.13 (в виде линии из треугольников) наносится поперек полосы движения и указывает место, где вы должны при необходимости остановиться, выполняя требование знака 2.4 «Уступите дорогу» и предоставляя преимущество транспортным средствам, движущимся по пересекаемой дороге. Правильный ответ — 2.

Вопрос 6

Для информирования водителей о предстоящей смене зеленого сигнала светофора на желтый Правилами предусмотрена возможность мигания зеленого сигнала. Этот сигнал разрешает движение транспортных средств (п. 6.2 ПДД). Следовательно, правильный ответ — 2.

Вопрос 7

Перед началом движения, перестроением, поворотом (разворотом) и остановкой водитель обязан подавать сигналы световыми указателями поворота соответствующего направления, а если они отсутствуют или неисправны — рукой. Правильный ответ — 4.

Вопрос 8

Стрелы разметки 1.18 указывают, что на данном перекрестке поворот направо может осуществляться не только с правой, но и с левой полосы. Следовательно, вы можете выполнить поворот либо заранее перестроившись на крайнюю правую полосу (занять крайнее правое положение) (п. 8.5 ПДД), либо продолжив движение по левой полосе. Поэтому возможны оба способа поворота. Правильный ответ — 3.

Вопрос 9

Чтобы развернуться на этом перекрестке, водитель вынужден использовать для маневра участок дороги, которая имеет двустороннее движение. Чтобы не нарушать ПДД (п. 1.4), движение по данному участку можно выполнять только по его правой стороне (этому на рисунке соответствует траектория А). Следовательно, правильный ответ — 1.

Вопрос 10

Знак 4.6 «Ограничение минимальной скорости» и табличка 8.14 «Полоса движения» предписывают двигаться по левой полосе со скоростью не менее 50 км/ч. Кроме этого, вне населенного пункта легковой автомобиль может двигаться со скоростью до 90 км/ч (за исключением автомагистралей, но об этом в данном вопросе речь не идет). Следовательно, правильный ответ — 3.

Вопрос 11

В соответствии с п. 11.4 ПДД на нерегулируемых перекрестках запрещается обгон на дороге, которая не является главной. Поскольку водитель легкового автомобиля движется по главной дороге и она имеет две полосы движения в каждом направлении, можно опередить оба грузовых автомобиля по любой траектории. Следовательно, правильный ответ — 1.

Вопрос 12

Остановившись за пешеходным переходом в 5 м от края пересекаемой проезжей части и обеспечив при этом расстояние 3 м до сплошной линии разметки, водитель не нарушит правила стоянки. Правильный ответ — 3.

Вопрос 13

В соответствии с п. 13.1 ПДД при повороте направо или налево водитель обязан уступить дорогу пешеходам, переходящим проезжую часть дороги, на которую он поворачивает, а также велосипедистам, пересекающим ее по велосипедной дорожке. Правильный ответ — 3.

Вопрос 14

В соответствии с п. 13.11 ПДД на нерегулируемом перекрестке равнозначных дорог трамвай имеет преимущество перед безрельсовыми транспортными средствами независимо от направления его движения. Правильный ответ — 1.

Вопрос 15

Вы пересекаете перекресток по направлению главной дороги, поэтому имеете преимущество и перед автобусом (несмотря на то что он тоже находится на главной дороге, поскольку у него есть помеха справа — ваш автомобиль), и перед легковым автомобилем (он находится на второстепенной дороге). Следовательно, правильный ответ на данный вопрос — 3.

Вопрос 16

Автомобиль въезжает на территорию жилой зоны (знак 5.21), где в соответствии с п. 10.2 ПДД разрешается двигаться со скоростью не более 20 км/ч. Соответственно, правильный ответ — 4.

Вопрос 17

Перевозка людей на мотоцикле должна осуществляться водителем, имеющим водительское удостоверение на право управления транспортным средством категории «А» или подкатегории «А1» в течение 2 и более лет п. 22.2(1) ПДД. Правильный ответ — 3.

Вопрос 18

В соответствии с Перечнем неисправностей из всех перечисленных неисправностей только неработающий стеклоподъемник не является причиной запрещения эксплуатации вашего транспортного средства. Правильный ответ — 4.

Вопрос 19

В данной ситуации возникает опасность заноса автомобиля из-за разницы сцепления правых и левых колес с поверхностью дороги. В подобных случаях рекомендуется, не меняя скорости и не пользуясь торможением, вернуть автомобиль на проезжую часть плавным поворотом руля. Если затормозить, автомобиль может занести. Следовательно, правильный ответ на данный вопрос — 3.

Вопрос 20

Время реакции водителя — это время, которое проходит с момента обнаружения опасности до начала принятия мер по ее избежанию. В зависимости от состояния водителя и его опыта, а также сложности обстановки, в которой находится водитель, это время обычно составляет от 0,5 до 1,5 с. Правильный ответ — 2.