




Посчитай яблоки десятками
от 1 дес. до 10 дес.



10

1 десяток

20

30

40

50

60

70

80

90

100

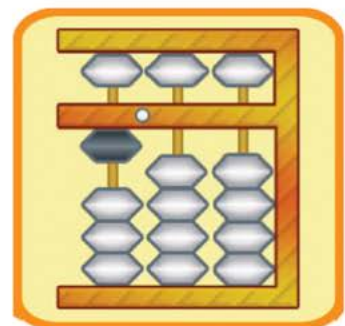


Сотня - это 10 десятков.



1 сотня

10 дес. = 1 сот.





Назови числа, изображённые на абакусе, запиши их.


<input type="text"/>		<input type="text"/>		<input type="text"/>	
<input type="text"/>		<input type="text"/>		<input type="text"/>	
<input type="text"/>		<input type="text"/>		<input type="text"/>	
		<input type="text"/>			



А теперь закрой глаза и посчитай десятки на абакусе в уме.



Дорисуй недостающую фигуру!



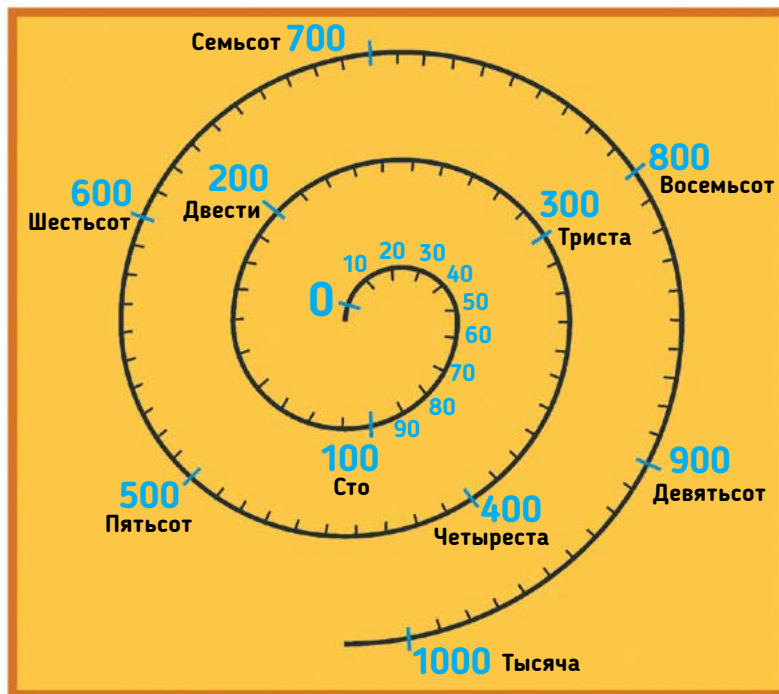
Занятие



Давай считать сотнями!

$$10 + 10 + 10 + 10 + 10 + 10 + 10 + 10 + 10 + 10 = 100$$

Поставь карандаш на отметку 0. Двигаясь до 100, считай и называй число и десяток. Продолжай счёт, называя число и сотню.



Запомни, как называют и записывают числа, которые получаются при счёте сотнями.

100 – 10 десятков – 1 сотня

200 – 20 десятков – 2 сотни

300 – 30 десятков – 3 сотни

400 – 40 десятков – 4 сотни

500 – 50 десятков – 5 сотен

600 – 60 десятков – 6 сотен

700 – 70 десятков – 7 сотен

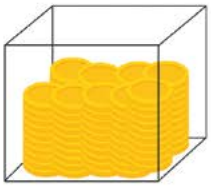
800 – 80 десятков – 8 сотен

900 – 90 десятков – 9 сотен

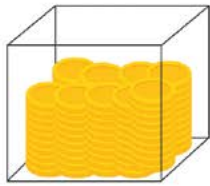
1000 – 100 десятков – 10 сотен

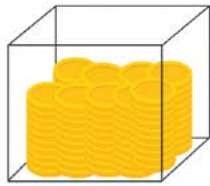


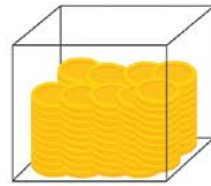
В каждой коробке по сто монет.
Давай посчитаем монеты в сотнях.



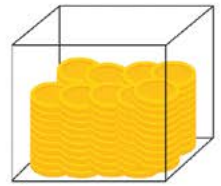
100

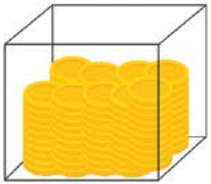


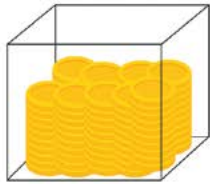


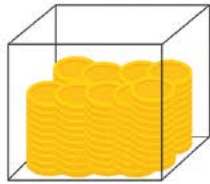


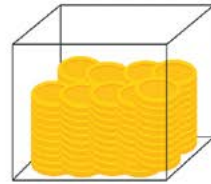
400

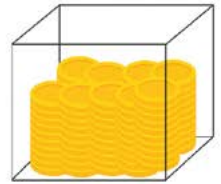












1000

Заполни пробелы в карточке.

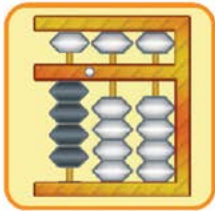
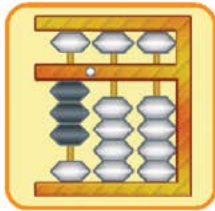
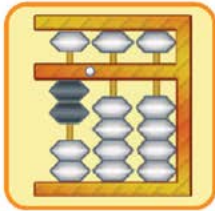
Всего монет _____.

В каждой коробке _____ монет.

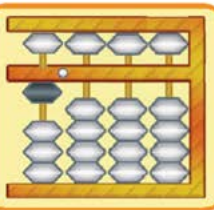
У меня _____ коробок с монетами.




Давай считать сотни на абакусе.
Заполни пробелы в карточке.

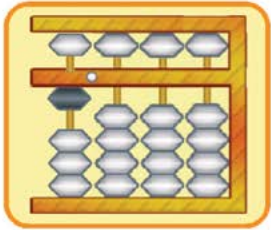
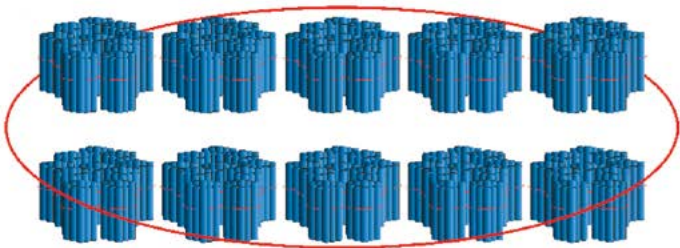


100
одна сотня
1 сот.





Тысяча - это 10 сотен.





Найди и раскрась животных,
которые спрятались.

