

Вопрос 1

Какие транспортные средства по Правилам относятся к маршрутным транспортным средствам?

1. Все автобусы.
2. Автобусы, троллейбусы и трамваи, предназначенные для перевозки людей и движущиеся по установленному маршруту с обозначенными местами остановок.
3. Любые транспортные средства, перевозящие пассажиров.

Вопрос 2

В каких направлениях вам разрешено продолжить движение?

1. Только Б.
2. Только Б или В.
3. В любых.



Вопрос 3

Что указывает этот знак?

1. Расстояние до конца тоннеля.
2. Расстояние до места аварийной остановки.
3. Направление движения к аварийному выходу и расстояние до него.



Вопрос 4

Каким транспортным средствам в обозначенной знаком зоне запрещена стоянка в выходные и праздничные дни?

1. Только грузовым автомобилям с разрешенной максимальной массой более 3,5 т.
2. Всем грузовым автомобилям.
3. Всем транспортным средствам.



Вопрос 5

Эта разметка на полосе движения:

1. Предоставляет вам преимущество при перестроении на правую полосу.
2. Информировывает вас о том, что дорога поворачивает направо.
3. Предупреждает вас о приближении к сужению проезжей части.



Вопрос 6

Что означает мигание зеленого сигнала светофора?

1. Предупреждает о неисправности светофора.
2. Разрешает движение и информирует о том, что вскоре будет включен запрещающий сигнал.
3. Запрещает дальнейшее движение.



Вопрос 7

Обязаны ли вы в данной ситуации подать сигнал правого поворота?


1. Да.
2. Да, но только при наличии движущихся сзади транспортных средств.
3. Нет.



Вопрос 8

Кто должен уступить дорогу при одновременном перестроении?

1. Водитель легкового автомобиля.
2. Водитель мотоцикла.



Вопрос 9

По какой траектории вы имеете право выполнить разворот, управляя автопоездом, имеющим большую длину?

1. Только по А.
2. Только по Б.
3. По любой.



Вопрос 10

С какой скоростью вы можете продолжить движение вне населенного пункта по левой полосе на грузовом автомобиле с разрешенной максимальной массой более 3,5 т?

1. Не более 50 км/ч.
2. Не менее 50 и не более 90 км/ч.
3. Не менее 50 и не более 70 км/ч.

Вопрос 11

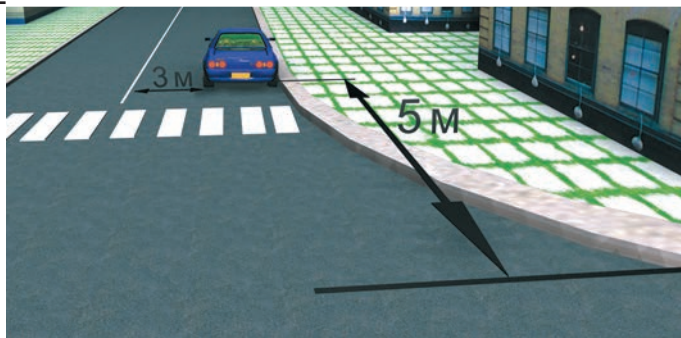
Может ли водитель легкового автомобиля выполнить опережение грузовых автомобилей по такой траектории в населенном пункте?

1. Да.
2. Нет.

**Вопрос 12**

Разрешено ли водителю поставить автомобиль на стоянку в указанном месте?

1. Да.
2. Нет.

**Вопрос 13**

Вы намерены повернуть направо. Следует ли уступить дорогу автобусу?

1. Да.
2. Нет.

**Вопрос 14**

Вы намерены проехать перекресток в прямом направлении. Ваши действия?


1. Уступите дорогу легковому автомобилю, поскольку он первым выехал на перекресток.
2. Убедитесь, что легковой автомобиль уступает дорогу, и проедете перекресток первым.

**Вопрос 15**

Вы намерены повернуть налево. Кому следует уступить дорогу?

1. Только автобусу.
2. Только легковому автомобилю.
3. Никому.





Вопрос 16

С какой максимальной скоростью вы можете продолжить движение за знаком?

1. 60 км/ч.
2. 50 км/ч.
3. 30 км/ч.
4. 20 км/ч.

Вопрос 17

Какие внешние световые приборы вы можете использовать при движении в темное время суток на неосвещенных участках дороги?

1. Только фары ближнего света.
2. Только фары дальнего света.
3. Фары ближнего или дальнего света.

Вопрос 18

При какой неисправности разрешается эксплуатация транспортного средства?

1. Не работают запоры горловин топливных баков.
2. Не работает механизм регулировки сиденья водителя.
3. Не работает устройство обогрева и обдува стекла.
4. Не работает стеклоподъемник.

Вопрос 19

В случае, когда правые колеса автомобиля наезжают на неукрепленную влажную обочину, рекомендуется:

1. Затормозить и полностью остановиться.
2. Затормозить и плавно направить автомобиль в левую сторону.
3. Не прибегая к торможению, плавно вернуть автомобиль на проезжую часть.

Вопрос 20

Когда следует проводить сердечно-легочную реанимацию пострадавшего?

1. При потере пострадавшим сознания, независимо от наличия пульса на сонной артерии и дыхания.
2. При потере пострадавшим сознания и отсутствии пульса на сонной артерии, а также признаков дыхания.

Вопрос 1

В соответствии с п. 1.2 ПДД маршрутное транспортное средство — это транспортное средство общего пользования (автобус, троллейбус, трамвай), предназначенное для перевозки людей и движущееся по установленному маршруту с обозначенными местами остановок. Его главная особенность — наличие определенного маршрута движения. Следовательно, правильный ответ — 2.

Вопрос 2

В данном случае водитель должен руководствоваться требованием знака 4.1.4 «Движение прямо или направо». Поэтому он может либо продолжить движение прямо (направление Б), либо повернуть направо (направление В). Разворот по траектории А запрещен. Следовательно, правильный ответ на данный вопрос — 2.

Вопрос 3

Новый дорожный знак 6.21.1 называется «Направление движения к аварийному выходу» и указывает направление движения к аварийному выходу и расстояние до него. Правильный ответ — 3.

Вопрос 4

Требование знака 5.27 «Зона с ограничением стоянки» действует на всей территории, обозначенной такими знаками, вплоть до конца зоны, обозначенной знаком 5.28 «Конец зоны с ограничением стоянки». Табличка 8.5.1, размещенная под знаком, распространяет его действие только на субботние, воскресные и праздничные дни. А табличка 8.4.1 «Вид транспортного средства» в нижней части знака информирует о том, что в обозначенной зоне стоянка запрещена только грузовым автомобилям с разрешенной максимальной массой, превышающей 3,5 т. Правильный ответ — 1.

Вопрос 5

Данная дорожная разметка (1.19) предупреждает водителя о приближении к участку, на котором уменьшается количество полос для движения в данном направлении (то есть проезжая часть сужается). Необходимо покинуть свою полосу движения. Правильный ответ на данный вопрос — 3.

Вопрос 6

Мигающий зеленый сигнал светофора не запрещает движение, а предупреждает водителей транспортных средств о том, что вскоре загорится желтый сигнал. Следовательно, правильный ответ — 2.

Вопрос 7

Знак 1.11.1 «Опасный поворот» не обязывает водителя включить сигнал поворота, а лишь предупреждает его о приближении к такому участку дороги. Правильный ответ — 3.

Вопрос 8

При одновременном перестроении дорогу должен уступить водитель, имеющий помеху справа, в данном случае — водитель автомобиля. Правильный ответ — 1.

Вопрос 9

При недостаточной для разворота ширине проезжей части ПДД разрешают выполнять маневр вне перекрестка не из крайнего левого положения, а с обочины или от правого края проезжей части, то есть по траектории А. Правильный ответ — 1.

Вопрос 10

Знак 4.6 «Ограничение минимальной скорости» и табличка 8.14 «Полоса движения» предписывают двигаться по левой полосе со скоростью не менее 50 км/ч. Однако при этом на дороге вне населенного пункта, не относящейся к автомагистрали, вы не имеете права развивать на грузовом автомобиле скорость более 70 км/ч. Правильный ответ — 3.

Вопрос 11

В соответствии с п. 11.4 ПДД на нерегулируемых перекрестках запрещается обгон на дороге, которая не является главной. Поскольку водитель легкового автомобиля движется по главной дороге и она имеет две полосы движения в каждом направлении, можно опередить оба грузовых автомобиля. Следовательно, правильный ответ — 1.

Вопрос 12

Водитель поставил автомобиль за пешеходным переходом в 5 м от края пересекаемой проезжей части, а расстояние от автомобиля до сплошной осевой линии разметки составляет 3 м. Это соответствует ПДД (пп. 12.4 и 12.5). Правильный ответ — 1.

Вопрос 13

В соответствии с п. 13.5 ПДД при движении в направлении стрелки, которая горит в дополнительной секции светофора одновременно с желтым или красным сигналом, водитель должен уступить дорогу транспортным средствам, движущимся с этих направлений. Следовательно, правильный ответ на данный вопрос — 1.

Вопрос 14

В соответствии с пп. 13.11 и 13.12 ПДД в данном случае вы имеете преимущество: водитель, движущийся во встречном направлении, намерен совершить левый поворот, и на перекрестке равнозначных дорог он должен уступить вам. Правильный ответ — 2.

Вопрос 15

Вы пересекаете перекресток по направлению главной дороги, поэтому имеете преимущество и перед автобусом (несмотря на то что он тоже находится на главной дороге, поскольку у него есть помеха справа — ваш автомобиль), и перед легковым автомобилем (он находится на второстепенной дороге). Следовательно, правильный ответ на данный вопрос — 3.

Вопрос 16

Автомобиль въезжает на территорию жилой зоны (знак 5.21), где в соответствии с п. 10.2 ПДД разрешается двигаться со скоростью не более 20 км/ч. Следовательно, правильный ответ — 4.

Вопрос 17

В соответствии с п. 19.1 ПДД при движении в темное время суток на неосвещенных участках дороги водитель должен использовать фары дальнего или ближнего света в зависимости от скорости движения, дорожных условий, наличия встречных и попутных транспортных средств. Правильный ответ — 3.

Вопрос 18

В соответствии с Перечнем неисправностей автомобиль разрешается эксплуатировать только при неработающем стеклоподъемнике. Следовательно, правильный ответ — 4.

Вопрос 19

В данной ситуации возникает опасность заноса автомобиля из-за разницы сцепления правых и левых колес с поверхностью дороги. В подобных случаях рекомендуется, не меняя скорости и не пользуясь торможением, вернуть автомобиль на проезжую часть плавным поворотом руля. Если затормозить, автомобиль может занести. Следовательно, правильный ответ на данный вопрос — 3.

Вопрос 20

Наличие пульса на сонной артерии означает, что пострадавший жив, даже если он находится без сознания. При этом сердечно-легочная реанимация не проводится. Правильный ответ — 2.